

- CM1 : Je sais lire l'heure.
- Je sais résoudre un problème de durée.

- Écris l'heure affichée par l'horloge.



► Correction

CM1



11 h 30

23 h 30

- Écris l'heure affichée par l'horloge.



www.micetf.fr

► Correction

CM1



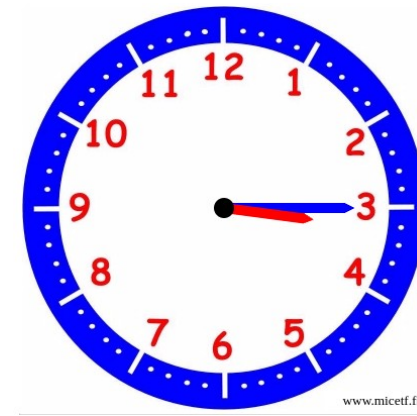
3 h 15

15 h 15

► Quelle est l'écart entre les deux horaires ?



11 h 30

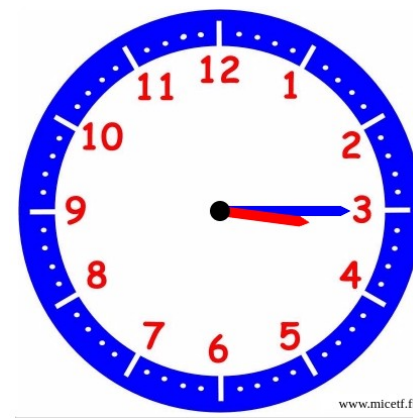


15 h 15

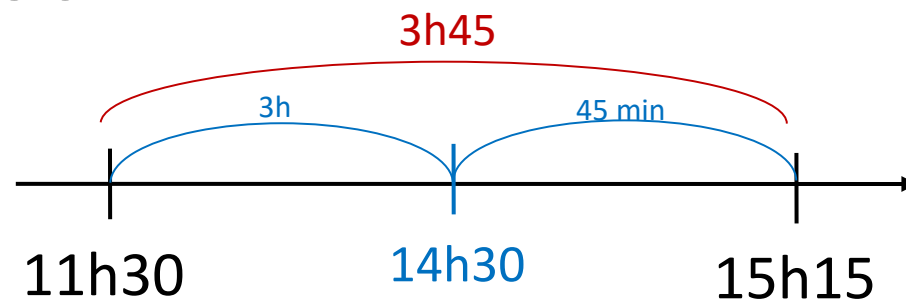
► Correction



11 h 30



15 h 15



L'écart est de 3 h 45.

- Je fais une course à pied qui commence à 10h30.
J'arrive à 11h25.

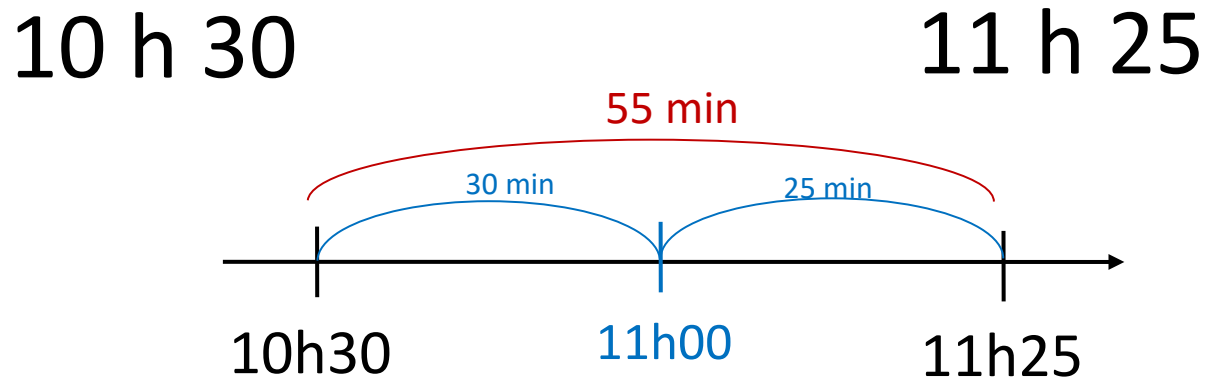
Combien de temps ai-je mis pour faire la course ?

10 h 30

11 h 25

► Correction

CM1



J'ai mis 55 minutes pour faire la course.